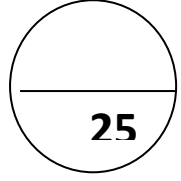


الامتحان النهائي للفصل الدراسي الأول

العام الدراسي 2021\2022

الصف : الأول

المبحث : الرياضيات



التاريخ :

الاسم :

السؤال الأول: جد الناتج ثم صل الناتج مع المسألة التي تدلُّ عليه : (8 علامات)

$$23 - 12 =$$

88

$$9 - 5 =$$

20

$$55 + 33 =$$

11

$$17 + 3 =$$

4



السؤال الثاني :

(أ) أكمل كتابة الأعداد التالية : (3 علامات)

60			63				
----	--	--	----	--	--	--	--

(ب) اكتب العدد الأكبر بواحد للأعداد التالية : (2 علامة)

22	
----	--

11	
----	--

(ج) اكتب العدد المناسب في الدائرة : (2 علامة)

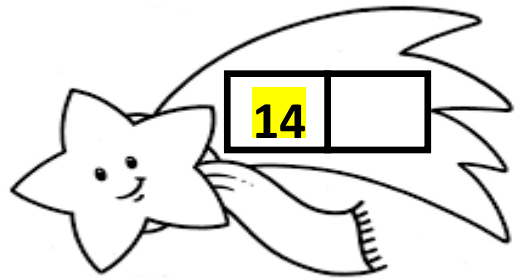
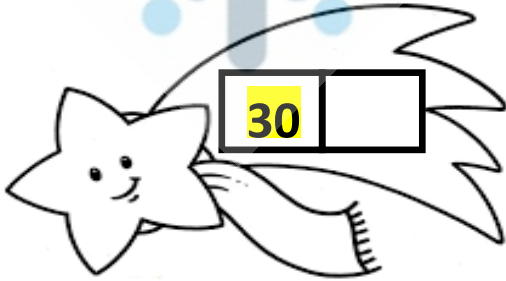


2. ثلاثة عشر



1. تسعة وتسعون

(د) اكتب عددًا يزيد عن العدد المعطى بـ (2) (2 علامة)



السؤال الثالث:

أ) اجمع ما يلي :

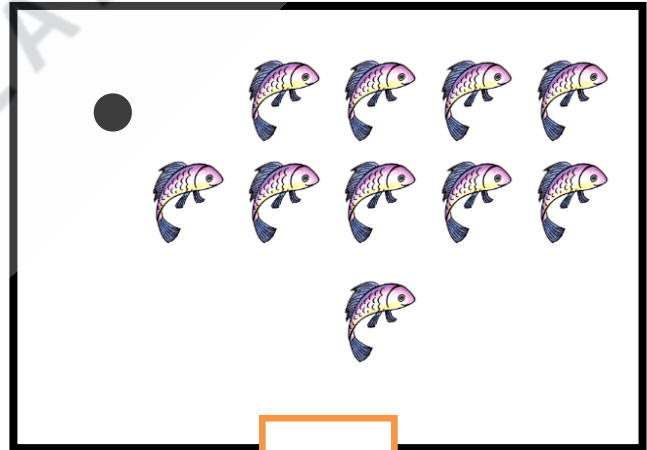

(3 علامات)

$11+1=$



15	+
22	

ب) عد واكتب العدد المناسب في المربع (2 علامة)



ج) جد ناتج الطرح فيما يلي: (3 علامات)

$13 - 7 =$

$54 - 32 =$