



امتحان الفصل الأول لمادة العلوم لعام /

السؤال الأول : ضع دائرة حول الإجابة الصحيحة :

1- من شروط المسكن الصحي توفر :-

أ- التهوية والإضاءة الطبيعية  
ب- التهوية فقط

2- الحيوانات التي يربئها الإنسان هي حيوانات :

أ- أليفة  
ب- غير أليفة

3- جزء من النبات ينمو ويصبح ثمرة هو :-

أ- الزهرة  
ب- الغصن

4- نبات لم يتوفر له الماء والهواء والضوء :-

أ- يذبل ويموت  
ب- ينمو ويكبر

5- نبات نأكل جذره :-

أ- البطاطا  
ب- البطاطا الحلوة

6- من الحيوانات آكلات النبات :-

أ- الأسد  
ب- الغزال


السؤال الثاني : أملأ الفراغ :-

- 1- اسم حيوان أليف ----- اسم حيوان غير أليف -----
- 2- من فوائد :-
- أ- البقرة ----- ب- الدجاج -----
- ج- الخروف -----
- 3- حيوانات آكلات لحوم -----
- 4- احتياجات الإنسان:
- أ ----- ب -----
- ج ----- د -----
- 5- تعيش الكائنات الحية في بيئات طبيعية تسمى -----

السؤال الرابع: أجب بنعم أو لا ، لا-

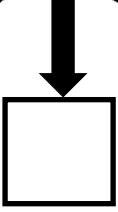
- 1- ) المقصود بالإضاءة الطبيعية للمسكن الصحي دخول الشمس من خلال النوافذ
- 2- ) (النبات أساس السلسلة الغذائية بين الكائنات الحية .
- 3- ) ( عدم قص الأظافر والسهر متأخرًا من العادات الصحية .
- 4- ) ( من الأغذية الصحية تناول السكريات بكثرة.
- 5- ) ( قلة ممارسة الرياضة تسبب الأمراض.

السؤال الخامس: اكتب أجزاء الجسم (رأس ، يد ، قدم ، ساق )

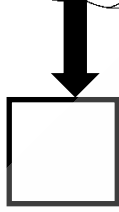


السؤال السادس: اكتب بالأرقام تحت الصور لتكوين سلسلة غذائية صحيحة

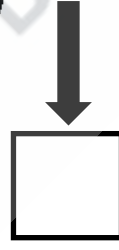
بوم



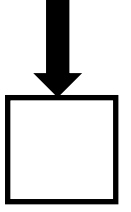
أفعى



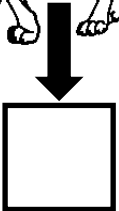

فأر



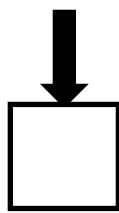
قمح



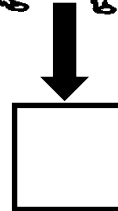

أسد



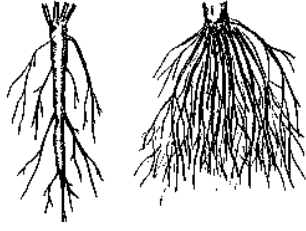
عشب



غزال



السؤال السابع: اكتب أجزاء النبات تحت كل جزء




-----

-----

-----

-----



-----

-----

-----

السؤال الثامن: اكتب أمثلة على نباتات نأكل

ثمارها	أوراقها	بذورها	سوقها	جذورها