



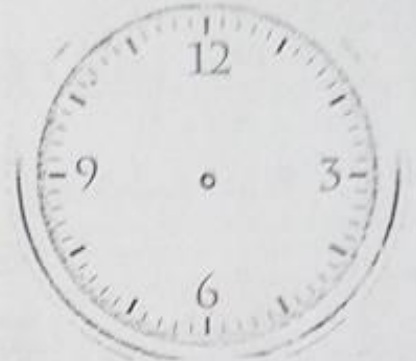
السؤال الأول : أرسمُ مؤشري الساعات والدقائقِ وَفَقِ الوَقْتِ الْمَحْدَدِ : ٥ علامات



السَّاعَةُ العَاشِرَةُ
وَو ٤٥ دَقِيقَةً





السَّاعَةُ العَاشِرَةُ
وَالرُّبْعُ





السَّاعَةُ العَاشِرَةُ

أجِدْ طُولَ كُلِّ مِمَّا يَأْتِي بِاسْتِخْدَامِ الْمِسْطَرَّةِ :



طُولُ الْقَلَمِ = سم.

أحَوِّطِ الشَّكْلَ الَّذِي كَثَلْتَهُ أَكْبَرَ فِي مَا يَأْتِي :





السؤال الثاني : أضع دائرة حول رمز الإجابة الصحيحة : ٥ علامات

١ - تَضَعُ عبير ٣ تفاحات في كل طبق ، فإذا كان لديها ٩ تفاحات ، فكم طبقاً يلزمها ؟

أ - ٣ أطباق ب - ٢٥ طبقاً ج - ١٨ طبقاً

٢ - ناتج ضرب $2 \times 8 =$

أ - ١٤ ب - ١٦ ج - ٢٠

٣ - ناتج القسمة $14 \div \square = 2$

أ - ٣ ب - ٨ ج - ٧

٤ - وَحِدَةُ الطَّوْلِ الأنسب لقياس طَوَّلِ بابِ الْغُرْفَةِ الصَّفِيَّةِ :

أ - سم ب - م ج - دسم

٥ - الْوَقْتُ الذي يَحْتَاجُ إِلَى وَقْتٍ أَقْصَرَ :

أ - بناء مدرسة ب - بناء ملعب ج - عمل طائرة ورقية

أجِدْ ناتج القسمة : ٣ علامات

$$45 \div 5 =$$

$$12 \div 4 =$$

$$25 \div 5 =$$

$$6 \div 2 =$$

$$4 \div 4 =$$

$$30 \div 5 =$$

السؤال الثالث : أكمل الفراغ بالكلمة المناسبة في ما يأتي :

١ - من أدوات القياس المعيارية ----- و ----- (علامة)

٢ - من أدوات القياس الغير معيارية ----- و -----

٣ - الدينار = ----- قرشا (٣ علامات)

٤ - نصف دينار = ----- قرشا

٥ - ساعتان = ----- دقيقة

٥م = سم

١م = سم

أجد الناتج في ما يأتي : (علامة)

أعطى سمير ابنه ماجد ٢٠ دينار اليوزعها على ٤ عائلات فقيرة بالتساوي ، فكم أعطى ماجد كل عائلة ؟

(علامة)

أجد الحل :

عددان حاصل ضربهما ٨ ، ما هما ؟



السؤال الرابع : اكتب العدد المناسب : (٥ علامات)

$$= ٣ \times ٨$$

$$= ٤ \times ٣$$

$$= ١ \times ٩$$

$$= ٢ \times ٢$$

$$= ٠ \times ٣$$

$$= ٢ \times ٩$$

$$= ١٠ \times ١٠$$

$$= ٥ \times ٥$$

$$= ١٠ \times ٢٥$$

$$= ٥ \times ٨$$