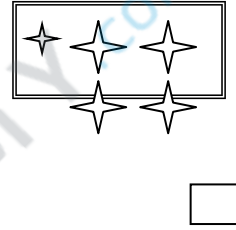
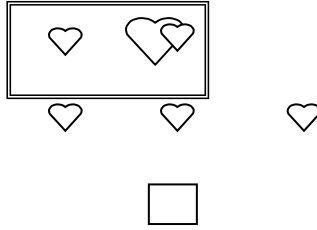
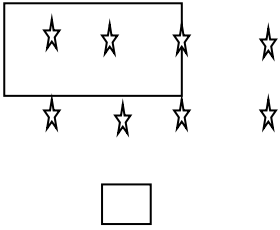

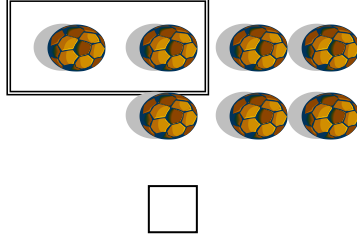
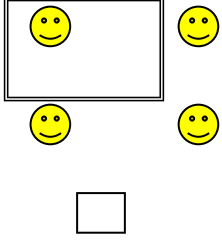


الصف : الأول

الاسم :




السؤال الأول : اكتب العدد المناسب في المربع : 6 علامات



السؤال الثاني : اكمل كتابة الأعداد في الجدول بالترتيب : 6 علامات

0			3			7		
10		12		15			18	

السؤال الثالث : ارسم حسب العدد المكتوب : 4 علامات



1

2

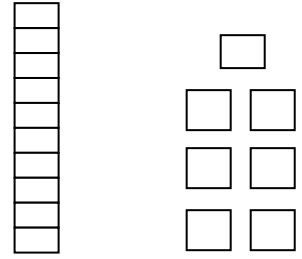
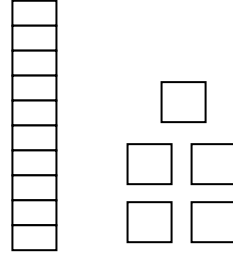
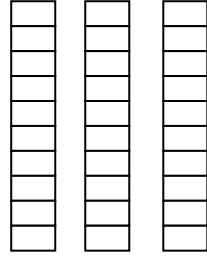
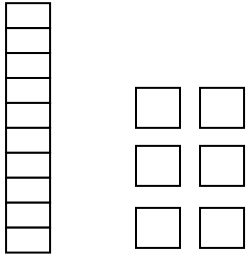
3

4

الصف : الأول

الاسم :

السؤال الرابع : اكتب العدد الذي تدل عليه الرسوم الاتية : 4 علامات



السؤال الخامس : اكتب الاعداد التي تسمعها من المعلم : 5 علامات

1- ثمانية عشر :




2- احدى عشر :



3- تسعة :



4- خمسون :



5- أربعة عشر :

