

السؤال الأول : ضع دائرة على الإجابة الصحيحة.

1- يقرب العدد 82 لأقرب عشرة هي :

أ- 90 ب- 80

2- العدد 73 هو العدد:

أ- زوجي ب- فردي

3- من مكونات العدد 100 :

أ- $20+80$ ب- $30+60$

4- التجزئة العددية للعدد 22 :

أ- $20+2$ ب- $2+2$

5- من مضاعفات العدد 8 :

أ- 26 ب- 16

6- ناتج جمع $35+3$

أ- 39 ب- 38

السؤال الثاني : اكتب العدد التالي في (بزيادة واحد)




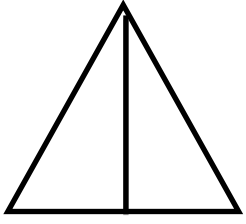
7 / 19 / 10

8 / 60 / 54

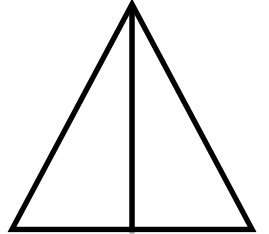
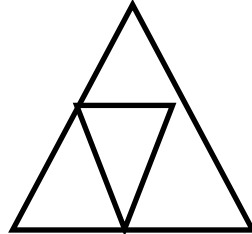
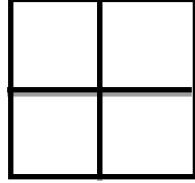

السؤال الثالث : اكتب العدد السابق في (بنقصان واحد)

30 / 91 / 45

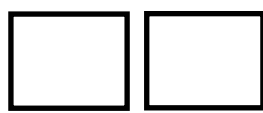
السؤال الرابع: لون النصف واكتب بالرمز



السؤال الخامس: لون الربع واكتب الرمز له



السؤال السادس: ضع في الإشارة المناسبة (> ، < ، =)



$\frac{4}{4}$ واحد صحيح //

$\frac{11}{42}$

$\frac{12}{24}$

السؤال السابع: أجب بنعم أو لا-، لا:

1-) ($8+2$ هو نفسه $2+8$)

2-) (إذا (ضاعفنا) العدد 2 يصبح 6)

3-) (العدد $92 > 90$)

4-) (العدد 80 من مضاعفات العدد عشرة)

السؤال الحادي عشر: اكتب مكونات العدد 10 و 20 و 100

